

Time: 40 Minutes	Paper Math 2	Total Marks: 25
-------------------------	---------------------	------------------------


5th Month, 2nd Week, 6th Day	Syllabus: Revision Test
------------------------------	--------------------------------

- Q.1. How many hours in a day? (2) ایک دن میں کتنے گھنٹے ہوتے ہیں؟
- Q.2. When do we write a.m. and p.m.? ہم a.m. اور p.m. کب لکھتے ہیں؟
- Q.3. Look the picture and write a.m. and p.m. (5) وقت دیکھ کر ان کے ساتھ a.m. اور p.m. لکھیں۔

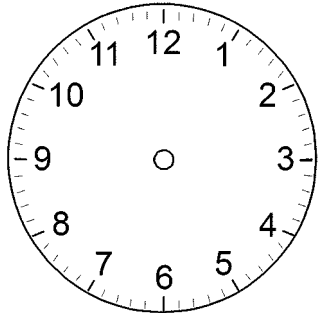


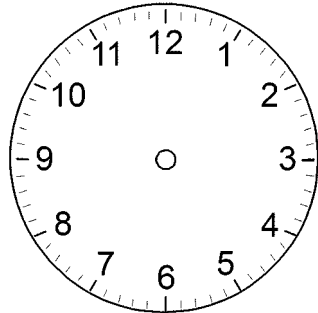


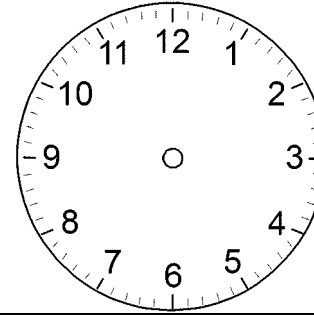


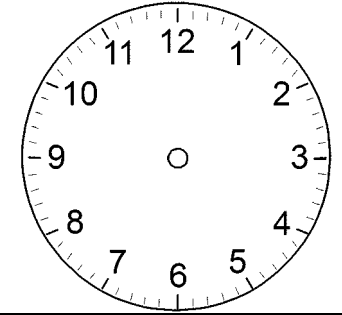


- Q.4. Read the time and draw hands of the clock. (5) وقت پڑھیں اور گھڑی کی سوئیاں بنائیں۔









- Q.5. Write the first five month of solar year. (10) شمس سال کے پہلے پانچ مہینوں کے نام لکھیں۔
